

# Problèmes 3\*

- 1 La maîtresse achète 8 ardoises neuves pour sa classe. Elle paye avec 100 €.

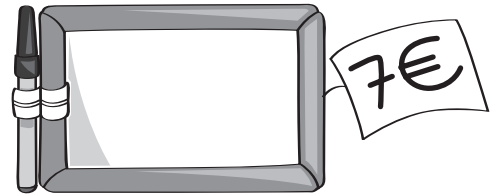
**Combien** d'argent lui reste-t-il ?

- **Calcule** d'abord combien elle devra payer en tout.


.....  
.....

- **Calcule** ensuite combien il lui reste.

.....  
.....




- 2 M. Duverger a récolté 2 650 kg de pommes l'année dernière. Cette année, il en a récolté 620 kg de plus que l'an passé.

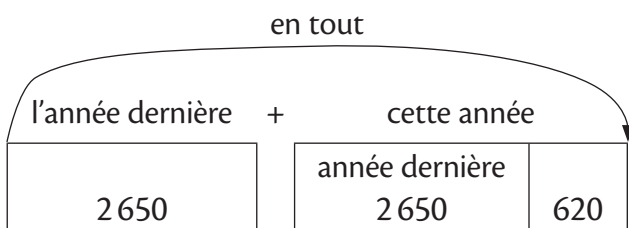


- **Combien** de kilos de pommes a-t-il récoltés cette année ?

.....  
.....

- **Combien** de kilos de pommes a-t-il récoltés en tout au cours des deux dernières années ?

**Aide-toi** du schéma, puis **écris** ta réponse.



.....  
.....


- 3 Nelsie, Yanis et Fred sont cousins. Nelsie a 15 ans, Yanis a 8 ans de plus que Nelsie, et Fred a 9 ans de plus que Yanis. Cette année, l'âge de leur grand-mère est égal à la somme des âges des trois petits-enfants.

**Quel** est l'âge de Yanis, de Fred et de leur grand-mère ?

Yanis a .....

Fred a .....

La grand-mère a .....


# Problèmes 3\*\*

- 1 Dans le poulailler de Mme Laferme, il y a 6 poules et 4 oies. Chaque poule mange 4 kg de graines par mois et chaque oie mange 9 kg de graines par mois.

**Combien** de kilos de graines Mme Laferme doit-elle acheter chaque mois ?

**Écris** les étapes de ton calcul.

.....  
.....  
.....



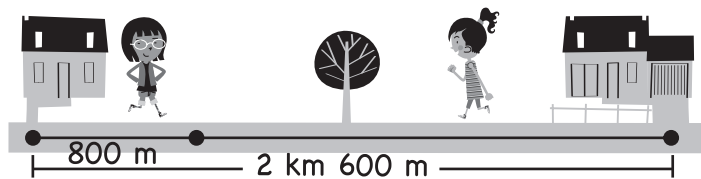

- 2 Il y a 50 moutons dans le champ de M. André et le double dans le champ de M. Fernand. Avec les moutons du champ de M. René, il y a en tout 469 moutons.

**Combien** M. René a-t-il de moutons ?

.....  
.....


- 3 Lou et Yasmine habitent à 2 km 600 m l'une de l'autre. Elles se sont donné rendez-vous à mi-chemin. Lou a déjà parcouru 800 m.

**Quelle** distance lui reste-t-il à parcourir avant de retrouver son amie ?



.....


- 4 Margot et ses parents partent en vacances au bord de la mer. Ils montent dans la voiture à 7 h 30 du matin, roulent 1 h 30 puis s'arrêtent 20 minutes pour prendre de l'essence. Ils arrivent à 11 heures.

**Combien** de temps a duré la deuxième partie du voyage ?

.....  
.....
